


# FIRKANTER

START HER

Hvor mange sider har figuren?



## Firkant

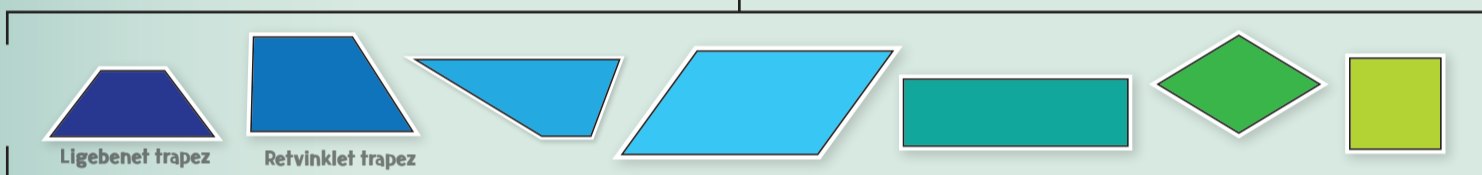


Har figuren parallelle sider?



To rette linjer er parallelle, hvis de har den samme indbyrdes afstand over det hele

## Trapez



Har figuren to par parallelle sider?



Modstående sider i firkanten skal være parallelle

## Parallelogram



Nej til begge spørgsmål


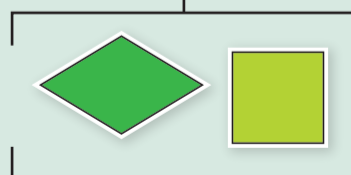
Er alle sider i figuren lige lange?

Har figuren rette vinkler?



## Rombe

## Rektangel

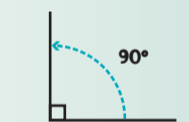
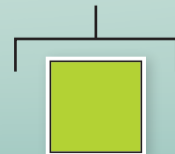


Har figuren rette vinkler?

Er alle sider i figuren lige lange?



## Kvadrat



Rette vinkler er vinkler der er præcis 90°